

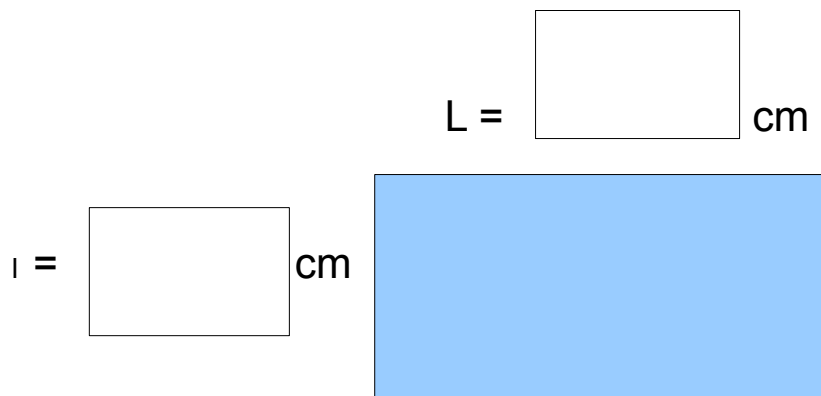


**Exercices d'utilisation de "ToutenClic"
fiche N°10 :**

1) Mesure la longueur de ces segments avec la règle et écris le résultat de ta mesure dans les cases :



2) Mesure la longueur des côtés de ce rectangle avec la règle et écris le résultat de ta mesure dans les cases :



3) Mesure le diamètre de ce cercle :

