

5PRENOM: _____

EVALUATIONS CE1 - JUIN

Palier 1 ▶ Compétence 3 ▶ Les principaux éléments de mathématiques

[Nombres et calcul](#)

Cette évaluation complète les évaluations nationales du mois de mai.

Calculer : addition, soustraction, multiplication

Pose et calcule :

$246 + 27$

$782 + 131$

$457 + 243$

$246 - 27$

$782 - 131$

$457 - 243$

79×5

246×3

131×4

PRENOM: _____

EVALUATIONS CE1 - JUIN

Palier 1 ▶ Compétence 3 ▶ Les principaux éléments de mathématiques

Nombres et calcul

Résoudre des problèmes relevant de l'addition, de la soustraction et de la multiplication

Problème n°1:

Dans une classe de vingt-six enfants, cinq enfants veulent se partager 35 billes. Chacun doit en avoir autant.

Combien chacun des cinq enfants aura-t-il de billes?

Calcul:

Réponse:

Problème n°2:

Alex avait beaucoup de billes avant la récréation. Pendant la récréation, il en gagne encore 27. A la fin de la récréation, il a 72 billes.

Combien Alex avait-il de billes avant la récréation?

Calcul:

Réponse:

PRENOM: _____

EVALUATIONS CE1 - JUIN

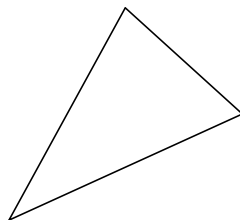


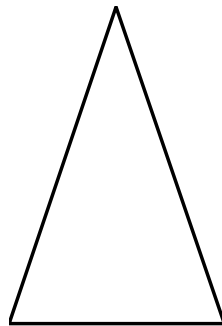

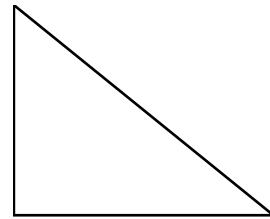
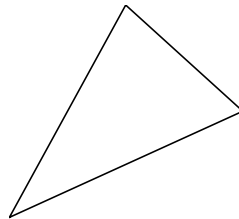

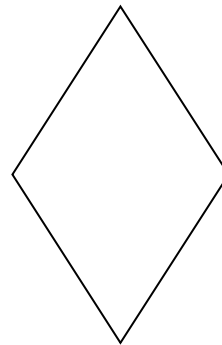


Palier 1 ▶ Compétence 3 ▶ Les principaux éléments de mathématiques

Géométrie

Reconnaître, nommer et décrire les figures planes et les solides usuels

Entoure les triangles.

Colorie les carrés.



PRENOM: _____


EVALUATIONS CE1 - JUIN

Palier 1 ▶ Compétence 3 ▶ Les principaux éléments de mathématiques

Géométrie

Utiliser la règle et l'équerre pour tracer avec soin et précision un carré, un rectangle, un triangle

Avec une équerre et une règle, reproduis exactement ce rectangle.



Avec une équerre et une règle, trace un carré de 5cm de côté.

PRENOM: _____

EVALUATIONS CE1 - JUIN

Palier 1 ▶ Compétence 3 ▶ Les principaux éléments de mathématiques


Géométrie

Percevoir et reconnaître quelques relations et propriétés géométriques : alignement, angle droit, axe de symétrie, égalité de longueurs

Pourquoi dit-on que cette figure est un carré?

Écris ses caractéristiques.

(3)



EVALUATIONS CE1 - JUIN

Palier 1 ▶ Compétence 3 ▶ Les principaux éléments de mathématiques

Grandeurs et mesures

Utiliser les unités usuelles de mesure ; estimer une mesure

Choisis la hauteur qui convient :

2 m - 8 m - 45cm - 1 m 50 - 38 cm - 30 m

une maison : _____

une fenêtre : _____

une tour : _____

la porte d'entrée : _____

la boîte aux lettres : _____

un tabouret : _____

(6)

PRENOM: _____

EVALUATIONS CE1 - JUIN

Palier 1 ▶ Compétence 3 ▶ Les principaux éléments de mathématiques

Organisation et gestion de données

Utiliser un tableau et un graphique

Catalogue des jeux de société

Trivial Poursuite	réf A 657	45 €
Scrabble	réf A 572	24 €
Labyrinthe	réf A 237	19 €
Cluéo	réf A 620	21€
1000 bornes	réf A 307	13 €

Catalogue informatique

Console de jeux	réf A 124	99 €
Manette volant	réf A 247	25 €
Jeu vidéo Pokémon	réf A 201	42 €
Jeu vidéo Tom et Jerry	réf A 301	25 €
Jeux vidéo Zelda	réf A 321	37 €
Jeu vidéo Marius	réf A 435	27 €

1. Avec les références des catalogues (réf), trouve le nom des jeux

réf : A 321 :

réf : A 620 :

réf : A 657 :

réf : A 435 :

2. Quel est le jeu de société le plus cher ?

.....

3. Quel est le jeu de société le moins cher ?

.....

4. Madame Dupont achète 2 jeux vidéos Zelda et un scrabble.

Combien dépense-t-elle ?

.....