

Une journée dure ..... heures.

En une journée, **la petite aiguille des heures** fait ..... fois le tour du cadran.

Il est 7 h du matin.



+ 12 h



Il est 19 h du soir.





Il est .....h du matin.  $+12\text{ h}$   Il est ..... h du soir.



Il est .....h du matin.  $+12\text{ h}$   Il est ..... h du soir.



Il est .....h ..... du matin.  Il est ..... h .....du soir.



Il est .....h du matin.



Il est ..... h du soir.



Il est .....h .....du matin.  Il est ..... h .....du soir.



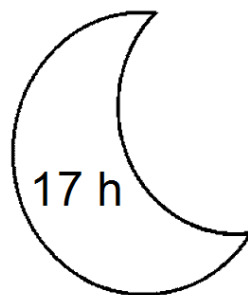
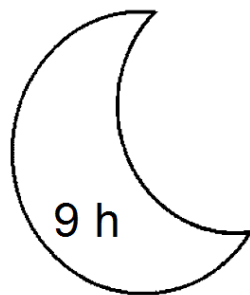
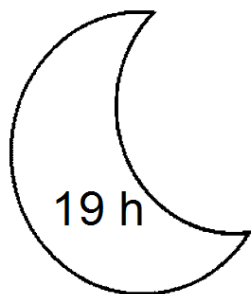
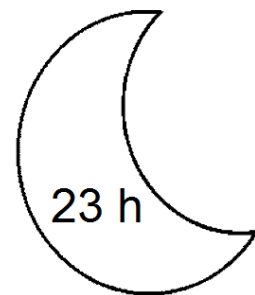
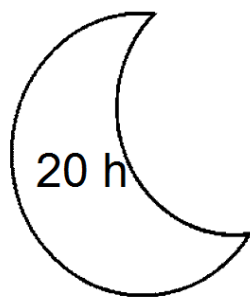
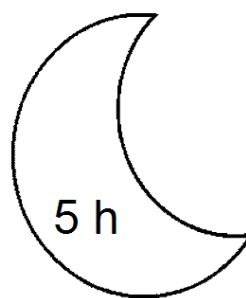
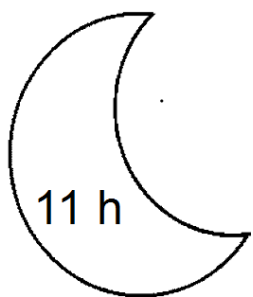


Il est .....h du matin.

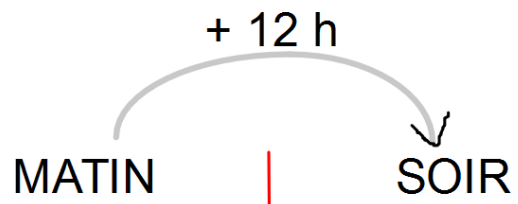


Il est ..... h du soir.

Colorie seulement les heures du soir ou de l'après-midi .







3 h .....  
.....

5 h .....  
.....

6 h 30 .....  
.....

9 h 30 .....  
.....



