


# Numération. Les nombres de 0 à 999.

1. Observe.


c	d	u
2	3	5

deux cent      trente-cinq

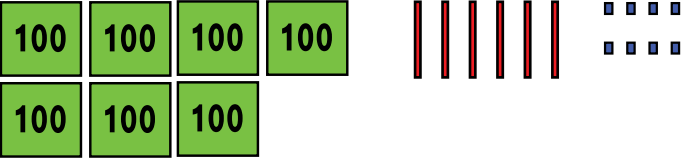
200      +      35




2. Complète les égalités pour chaque collection.




..... + ..... = .....



..... + ..... = .....



..... + ..... = .....



..... + ..... = .....

3. Ecris les nombres en chiffres.

- cinq cents : .....
- quatre cent trente-huit : .....
- six cent vingt-sept : .....
- huit cent quatre-vingts : .....
- trois cent douze : .....
- neuf cent soixante-dix-neuf : .....

4. Ecris les nombres en lettres.

- 196 : .....      234 : .....
- 580 : .....      372 : .....
- 629 : .....      961 : .....
- 700 : .....      673 : .....

5. Calcule.

- 300 + 12 = .....
- 600 + 87 = .....
- 700 + 36 = .....
- 900 + 71 = .....

6. Complète les égalités.

- 543 = 500 + .....
- 458 = ..... + .....
- 684 = ..... + .....
- 875 = ..... + .....