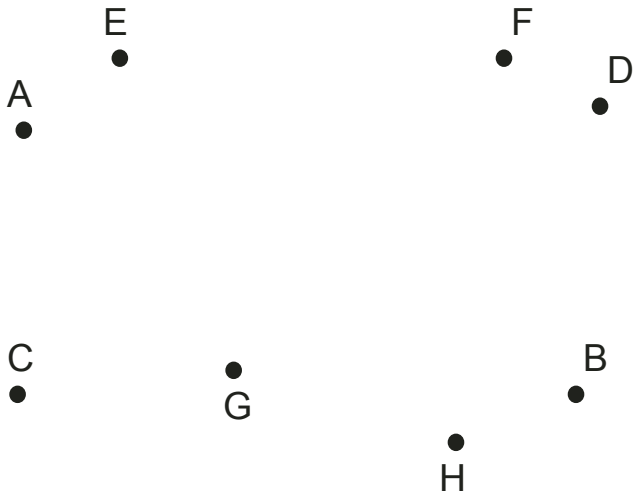


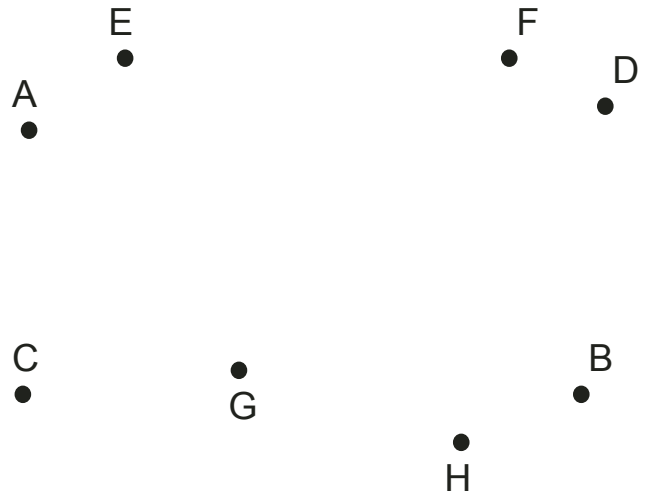
Points et segments

Trace les segments AB, CD, EF et GH.
Marque d'un point rouge l'endroit où se croisent les segments AB et CD.
Appelle-le i.



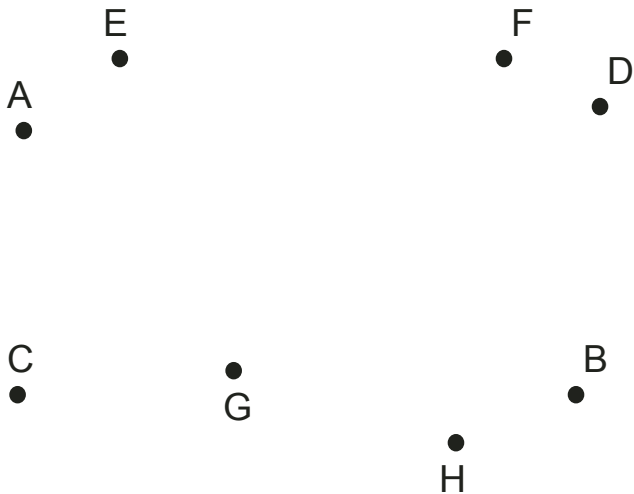
Points et segments

Trace les segments AB, CD, EF et GH.
Marque d'un point rouge l'endroit où se croisent les segments AB et CD.
Appelle-le i.



Points et segments

Trace les segments AB, CD, EF et GH.
Marque d'un point rouge l'endroit où se croisent les segments AB et CD.
Appelle-le i.



Points et segments

Trace les segments AB, CD, EF et GH.
Marque d'un point rouge l'endroit où se croisent les segments AB et CD.
Appelle-le i.

