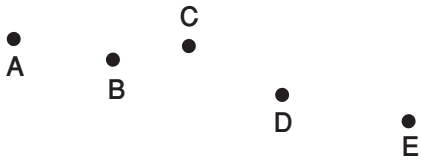



Alignements

A, B, D et E sont-ils alignés ?

A, B et C sont-ils alignés ?



Avec ta règle, trouve les 3 points qui sont alignés.
Trace la droite, puis complète.



..... , et sont alignés.


Alignements

A, B, D et E sont-ils alignés ?

A, B et C sont-ils alignés ?



Avec ta règle, trouve les 3 points qui sont alignés.
Trace la droite, puis complète.

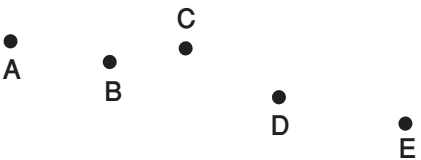


..... , et sont alignés.


Alignements

A, B, D et E sont-ils alignés ?

A, B et C sont-ils alignés ?



Avec ta règle, trouve les 3 points qui sont alignés.
Trace la droite, puis complète.



..... , et sont alignés.