



Observe, puis réponds aux questions.




Combien de fois dans ce jeu,  
4 pions noirs sont-ils alignés ? ..... fois  
Combien de fois dans ce jeu,  
4 pions blancs sont-ils alignés ? ..... fois

Observe, puis réponds aux questions.




Combien de fois dans ce jeu,  
4 pions noirs sont-ils alignés ? ..... fois  
Combien de fois dans ce jeu,  
4 pions blancs sont-ils alignés ? ..... fois

Observe, puis réponds aux questions.




Combien de fois dans ce jeu,  
4 pions noirs sont-ils alignés ? ..... fois  
Combien de fois dans ce jeu,  
4 pions blancs sont-ils alignés ? ..... fois

Observe, puis réponds aux questions.




Combien de fois dans ce jeu,  
4 pions noirs sont-ils alignés ? ..... fois  
Combien de fois dans ce jeu,  
4 pions blancs sont-ils alignés ? ..... fois

Observe, puis réponds aux questions.



Combien de fois dans ce jeu,  
4 pions noirs sont-ils alignés ? ..... fois  
Combien de fois dans ce jeu,  
4 pions blancs sont-ils alignés ? ..... fois

Observe, puis réponds aux questions.



Combien de fois dans ce jeu,  
4 pions noirs sont-ils alignés ? ..... fois  
Combien de fois dans ce jeu,  
4 pions blancs sont-ils alignés ? ..... fois