

équipe :

DÉFI MATHS CE1 N°1

Vous avez obtenu le
score de : / 100

10 points

n°1 : Devinette

Je suis un nombre supérieur à 40 et inférieur à 59.
Mon chiffre des unités est 8.
Mon chiffre des dizaines est la moitié du chiffre des unités.



Qui suis-je ?

10 points

n°2 : Le chemin le plus court.



Quel est le chemin le plus court pour arriver à la carotte ?
C'est le chemin

15 points

n°3 : Personnages placés

Kid n'a personne à sa droite.
Tomy n'a personne à sa gauche.
Gamo est à gauche de Kid.
Sam est entre Kid et Gamo.
Quel est le nom de chaque personnage ?

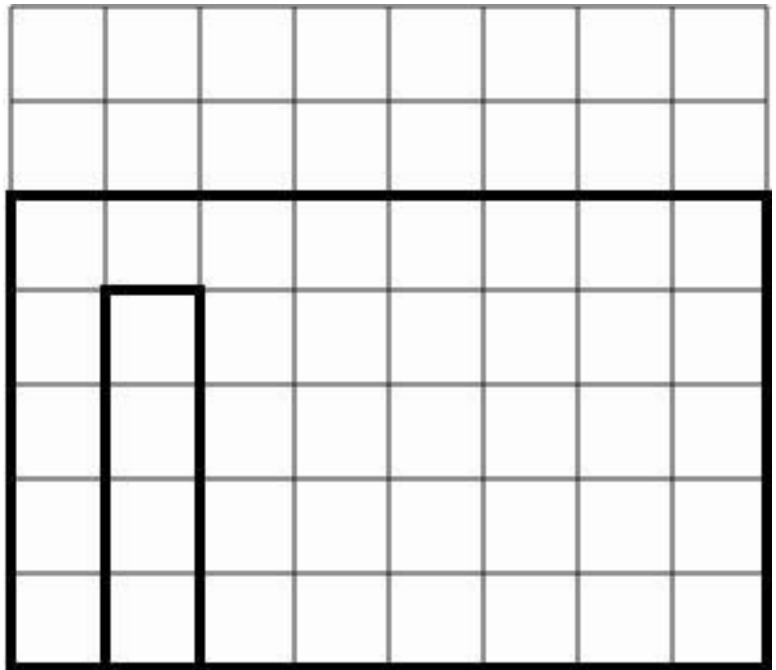
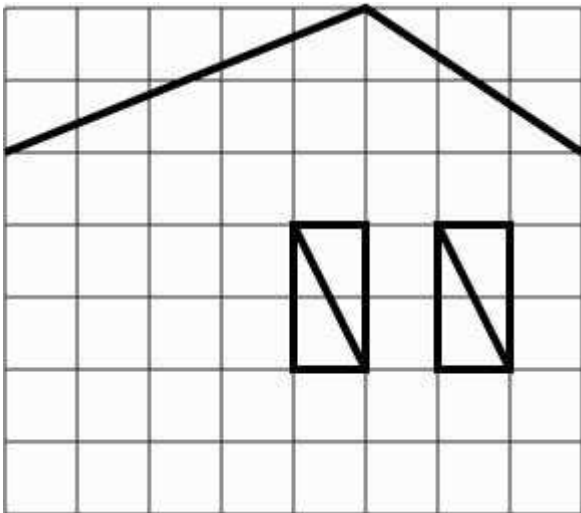


.....

15 points

n°4 : La maison

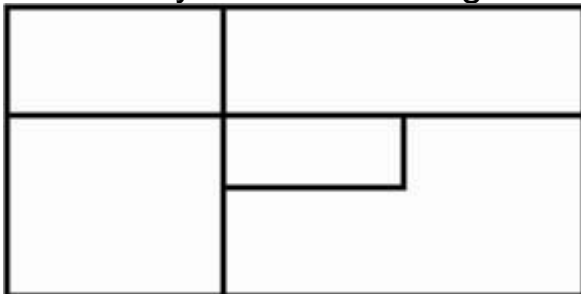
Complète les deux quadrillages pour que les maisons soient identiques (pareilles).



25 points

n°5 : Les rectangles cachés.

Combien y a-t-il de rectangles cachés ?



Nous comptons rectangles.

25 points

n°6 : Opérations cryptées

Chaque symbole remplace un chiffre.

Retrouve-le.

$$\begin{array}{r} \bigcirc \triangle \\ + \triangle \triangle \\ \hline 84 \end{array} \quad \begin{array}{r} \triangle \bigcirc \\ + \bigcirc \square \\ \hline 8 \star \end{array} \quad \begin{array}{r} \square \triangle \\ + \triangle \bigcirc \\ \hline 58 \end{array}$$

$\triangle = ?$ $\bigcirc = ?$ $\square = ?$ $\star = ?$