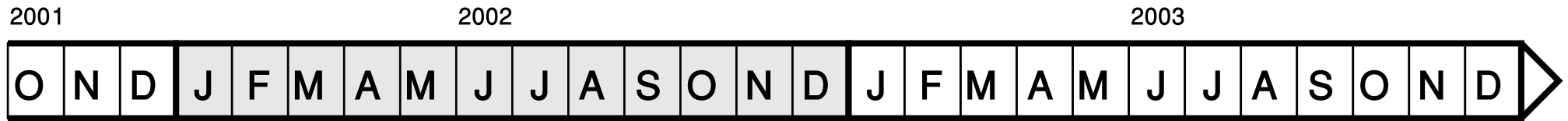


Classe les enfants sur la frise chronologique selon leur date de naissance puis réponds aux questions.

Johan : 10 novembre 2001

Léonie : 4 mai 2003

Mohamed : 6 mai 2002



Johan

Qui est le plus âgé ? .....

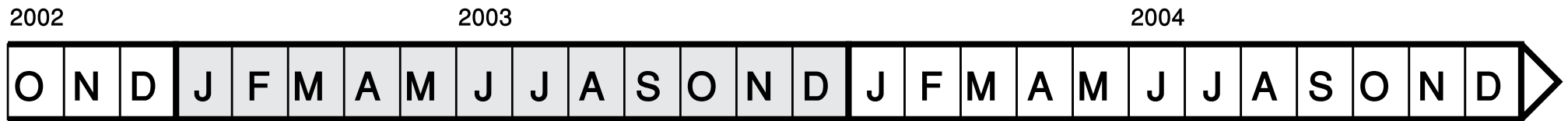
Qui est le plus jeune ? .....

Classe les enfants sur la frise chronologique selon leur date de naissance puis réponds aux questions.

Yann : 13 avril 2004

Hélène : 25 décembre 2002

Caroline : 6 juin 2003



Qui est le plus jeune ? .....

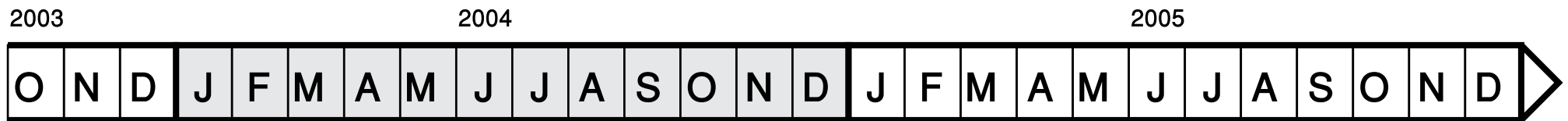
Qui est le plus âgé ? .....

Classe les enfants sur la frise chronologique selon leur date de naissance puis réponds aux questions.

Lola : 8 août 2005

Rami : 30 octobre 2003

Nicolas : 14 septembre 2004



Qui est le plus jeune ? .....

Qui est le plus âgé ? .....