
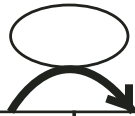


Suite de nombres


Trouve la règle et continue la suite des nombres.



358	368					418					
-----	-----	--	--	--	--	-----	--	--	--	--	--



689	684						654				
-----	-----	--	--	--	--	--	-----	--	--	--	--




523	520								496		
-----	-----	--	--	--	--	--	--	--	-----	--	--




750	700									250	
-----	-----	--	--	--	--	--	--	--	--	-----	--

Suite de nombres

Trouve la règle et continue la suite des nombres.




358	368					418					
-----	-----	--	--	--	--	-----	--	--	--	--	--



689	684						654				
-----	-----	--	--	--	--	--	-----	--	--	--	--



523	520								496		
-----	-----	--	--	--	--	--	--	--	-----	--	--



750	700									250	
-----	-----	--	--	--	--	--	--	--	--	-----	--