
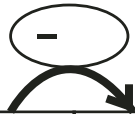


Suite de nombres

Trouve la règle et continue la suite des nombres.




233	236					251					
-----	-----	--	--	--	--	-----	--	--	--	--	--



565	560						530				
-----	-----	--	--	--	--	--	-----	--	--	--	--




720	730								810		
-----	-----	--	--	--	--	--	--	--	-----	--	--



32	132									1032	1132
----	-----	--	--	--	--	--	--	--	--	------	------

Suite de nombres

Trouve la règle et continue la suite des nombres.



233	236					251					
-----	-----	--	--	--	--	-----	--	--	--	--	--



565	560						530				
-----	-----	--	--	--	--	--	-----	--	--	--	--



720	730								810		
-----	-----	--	--	--	--	--	--	--	-----	--	--



32	132									1032	1132
----	-----	--	--	--	--	--	--	--	--	------	------