







Exercice sur la division

Une maman partage équitablement 45 pièces entre ses 5 enfants.  
Combien de pièces reçoit chaque enfant ?

Dessine et calcule puis réponds à la question.

	<input type="text"/>		<input type="text"/>		<input type="text"/>
	<input type="text"/>		<input type="text"/>		<input type="text"/>







Calcul : .....

Réponse : .....

Exercice sur la division

Une maman partage équitablement 45 pièces entre ses 5 enfants.  
Combien de pièces reçoit chaque enfant ?

Dessine et calcule puis réponds à la question.

	<input type="text"/>		<input type="text"/>		<input type="text"/>
	<input type="text"/>		<input type="text"/>		<input type="text"/>

Calcul : .....

Réponse : .....