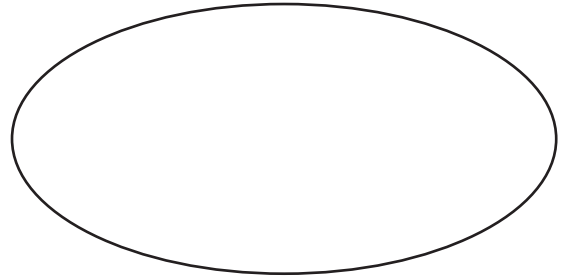
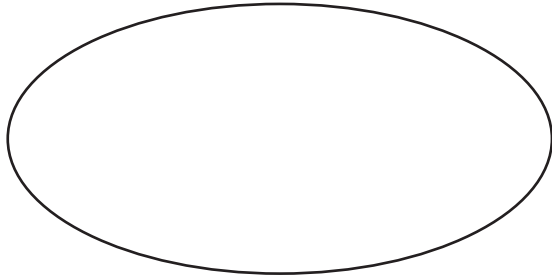


Exercice sur la division

Un oncle partage équitablement 18 cadeaux entre ses 2 neveux.
Combien de cadeaux reçoit chaque enfant ?
Dessine et calcule puis réponds à la question.

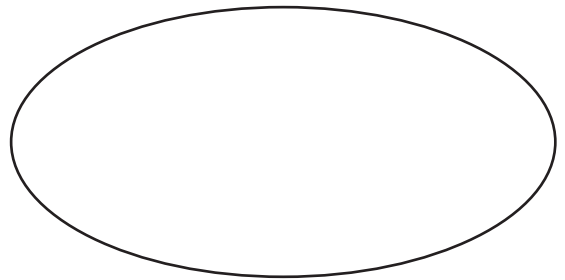
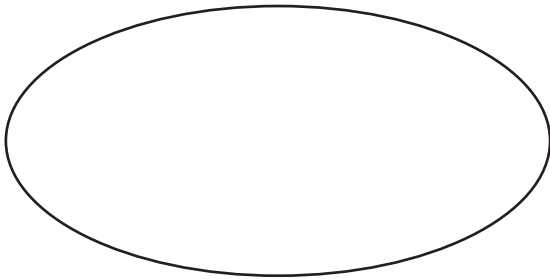


Calcul :

Réponse :

Exercice sur la division

Un oncle partage équitablement 18 cadeaux entre ses 2 neveux.
Combien de cadeaux reçoit chaque enfant ?
Dessine et calcule puis réponds à la question.



Calcul :

Réponse :