

À RENDRE AVEC LA COPIE D'EXAMEN

TROISIÈME PARTIE : REPÈRES CHRONOLOGIQUES ET SPATIAUX

Voici des grands sites historiques et touristiques les plus visités au monde.
Datez les événements ou périodes évoqués en caractères gras.

Sites / monuments historiques	DATES à retrouver.
1. À Pékin, le Musée de l'Histoire de la Chine présente des documents sur la naissance de la République populaire de Chine .	
2. À Amiens et à Rouen, un son et lumière retrace le temps des cathédrales .	
3. Au château de Versailles , les touristes peuvent imaginer le règne personnel de Louis XIV .	de à
4. En Grèce, des millions de touristes photographient le Parthénon , symbole de l' apogée d'Athènes .	
5. En Turquie, on peut visiter la basilique Sainte-Sophie qui n'a pas été détruite lors de la chute de Constantinople .	
6. Au Japon, le Musée de la paix et du souvenir commémore le bombardement sur Hiroshima .	

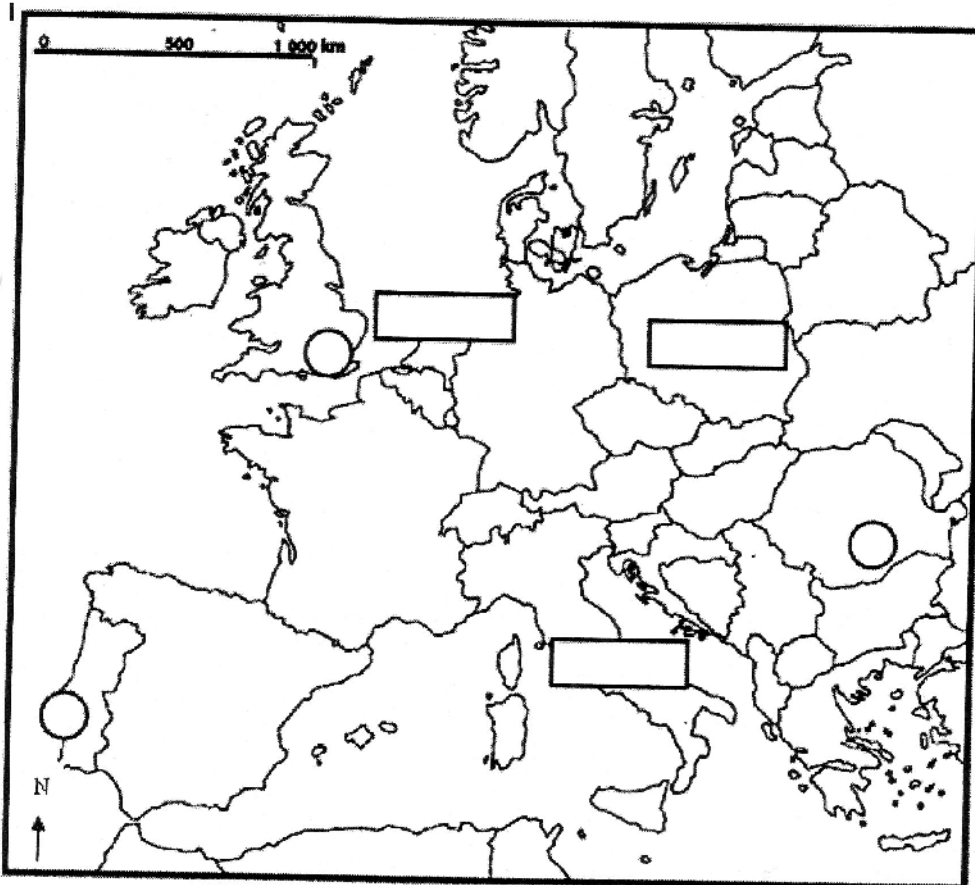
Du 5 au 14 juillet 2008, sur les quais du port de Rouen, on pourra assister à l'Armada qui regroupe les plus grands voiliers du monde.

1 - Localisez sur la carte, dans les rectangles, les **pays d'origine** de ces bateaux.

Noms des voiliers	Pays d'origine à localiser
Amerigo Vespucci	ITALIE
Le Thalassa	PAYS-BAS
L'Iskra	POLOGNE

2 - Localisez les **capitales** des pays de ces grands voiliers en reportant leur numéro dans les cercles.

Nom des voiliers	Capitales à localiser
Le Mircéa	1. BUCAREST
Le Tenacious	2. LONDRES
Le Sagress II	3. LISBONNE



EXERCICE 2 Le sujet 2006 - Brevet série Collège - Histoire - Géographie - Repérages d'histoire-géographie

Repérages d'histoire-géographie : Repérage dans le temps et dans l'espace

Complétez le texte par la date ou l'événement correspondant :

Les 27 et 28 novembre 2005 les pays de l'Union européenne et des dirigeants de pays du Sud de la Méditerranée se sont réunis à l'occasion du dixième anniversaire du partenariat Euromed pour relancer la coopération de part et d'autre de la Méditerranée.

De tous temps la Méditerranée a été une zone de contacts et d'oppositions.

Les rivages méditerranéens n'ont en effet été soumis qu'une seule fois au même pouvoir, celui de **l'empire romain qui a atteint son apogée au**

Le déclin de l'empire et la diffusion de l'Islam dont **l'Hégire date de** marquent le début d'un morcellement politique.


A l'époque contemporaine, la rive sud de la Méditerranée est colonisée par les métropoles européennes. La colonisation en Afrique du nord s'achève en **1962, date de**

Indiquez à quoi correspondent sur la carte :

- le repère géographique A
- l'Etat B
- la ville C



**EXERCICE 3 Le sujet 2004 -
Repérages d'histoire-géographie**




Ce monument abrite la tombe du soldat inconnu qui rappelle le sacrifice de tous les "Poilus" de la Première Guerre Mondiale. A l'issue de ce conflit, quand fut signé l'armistice ?




Quelle ville alsacienne est devenue une des capitales de l'Union Européenne ?

Extrémité ouest de la France, dans quel océan s'avance cette Pointe ?

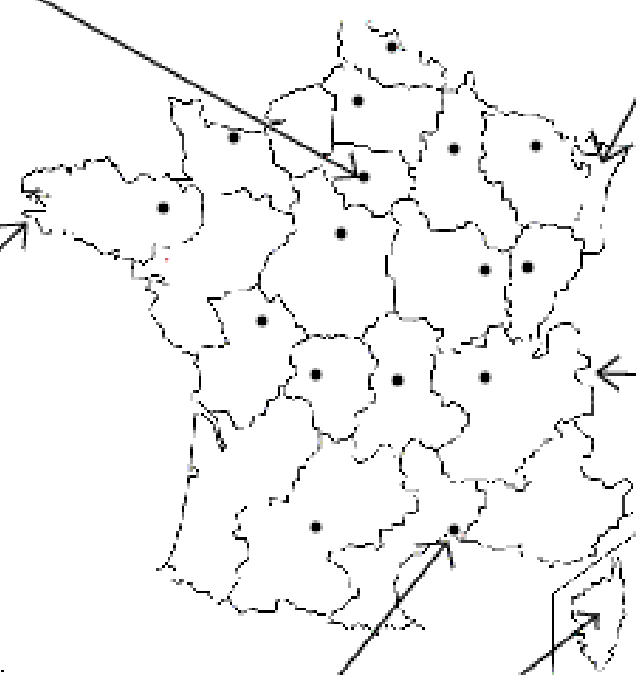


C'est le plus haut sommet d'Europe. A quel ensemble de relief appartient-il ?

Vestige de l'époque romaine, cet aqueduc attire des milliers de visiteurs chaque année. Quand se situe l'apogée de l'empire romain ?

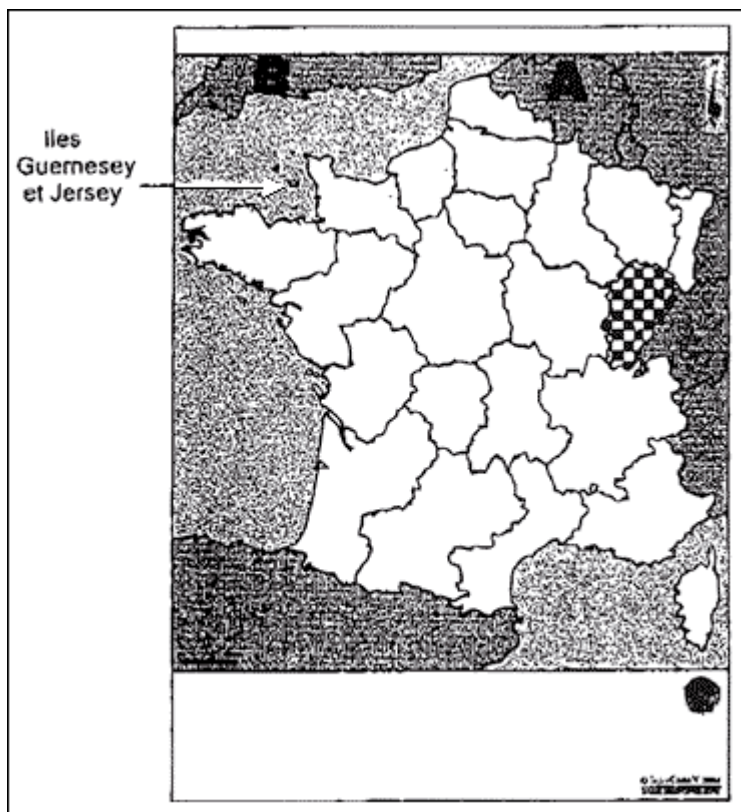


Né sur cette île, Napoléon Bonaparte fut le fondateur du Premier Empire. Quelles sont les dates de ce régime ?



EXERCICE 4(année 2005)

A travers la vie de Victor Hugo (1802 - 1885) est un grand écrivain français.



1. Il est né en 1802 à Besançon, capitale de la région quadrillée sur la carte. Comment s'appelle cette région ? (1 point)

2. Il a écrit en 1827 une pièce de théâtre sur Cromwell, un homme politique anglais protestant. Quel est le siècle des réformes protestantes ? (1 point)

3. Il a écrit en 1831 un roman sur la cathédrale de Paris, Notre-Dame de Paris. Quel est le siècle des cathédrales ? (1 point)

4. Il a lutté contre le régime politique de Napoléon III, qui a duré de 1852 à 1870. Comment s'appelle ce régime politique ? (1 point)

5. Pendant cette période, il a fui le pays A sur la carte puis il a vécu en exil à Jersey puis à Guernesey, deux îles de la Manche appartenant à l'Etat B. Comment s'appelle le pays A ? (0,5 point)
Quel est le nom de l'Etat B ? (0,5 point)

6. Il est mort en 1885, l'année où fut découvert le vaccin contre la rage. Qui a découvert ce vaccin ? (1 point)

EXERCICE 5 Juillet 2001 : deux astéroïdes se dirigent vers notre planète. Les savants ont pu calculer les points d'impact de ces objets célestes.

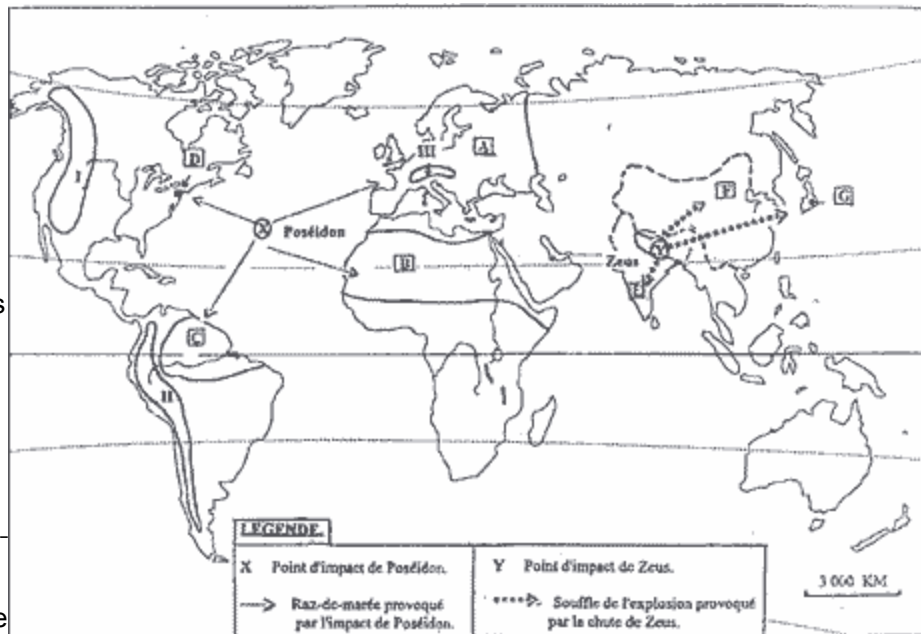
Vous répondez par des phrases aux trois questions suivantes :

1 - Trouvez le nom de l'océan (X) touché par le premier astéroïde baptisé Poséidon et identifiez les zones détruites par les raz-de-marée consécutifs à l'impact

- A : un continent**
- B : un grand désert**
- C : une forêt dense**
- D : une grande ville**

2 - Les rares survivants ont pu être sauvés en se réfugiant sur les hautes montagnes. Donnez les noms de ces **trois massifs montagneux (I - II - III)**.

3 - Le deuxième astéroïde, baptisé Zeus, explose sur un grand fleuve d'Asie. Comment s'appelle ce **fleuve (Y)** et quels sont les noms des **trois pays (E - F - G)** touchés par le souffle de cette terrible explosion.



EXERCICE 6

C'est à Athènes au temps de son apogée(1) qu'est née la démocratie. Mais ce n'est que plus de 2000 ans plus tard qu'un régime démocratique, la République(2), est apparu en France. Il restait alors, malgré tout, encore bien des progrès à accomplir : l'esclavage dans les colonies françaises n'a été aboli(3) que plus d'un demi siècle plus tard et les femmes ont attendu encore près d'un siècle et demi pour obtenir le droit de vote(4).

Question 1 :

Donnez la date des quatre évènements évoqués par le texte.

Question 2 :

Citez le nom du personnage auquel est associée l'apogée d'Athènes.

Question 3 :

Quel autre progrès de la démocratie a été réalisé en France au même moment que l'abolition de l'esclavage ?

Question 4 :

Indiquez sur la carte avec le numéro 1 : l'isthme de Panama

Indiquez sur la carte avec le numéro 2 : l'Algérie

Indiquez sur la carte avec le numéro 3 : la mégapole américaine



EXERCICE 7

Repères chronologiques et spatiaux (6 points)

1. L'histoire des religions est jalonnée de grands événements. Datez les suivants :

- L'Hégire :
- Le temps des cathédrales :
- Les réformes protestantes :

2. Ecrivez :

- Le nom des Etats numérotés :

1

2

- Sur la carte,

a. Le nom des deux villes signalées par ■

b. Le nom du détroit et de la mer séparant l'Europe et l'Afrique

.

3. En quelle année le Traité de Rome a-t-il été signé ?.....

Donnez les dates (années) du début et de la fin de la guerre d'Algérie :

