

5. Evaluation de la sortie


Question	Moi (Oui/non/ parfois)	Professeur (Oui/non/ parfois)
Je me suis investi(e) pour préparer et financer la sortie		
Je me suis intéressé(e) à la sortie		
J'ai respecté la charte du randonneur		
Mon dossier est complet		
Mon dossier est soigné		
Mes réponses sont justes		

CIRQUE DE MAFATE

*Plaine des Tamarins
La Nouvelle
La plaine aux sables*

CARNET DE BORD

Appartient à _____



Mercredi 25 / Jeudi 26 mars

**Classe de 407
Collège Terrain Fayard**

Remplis ce carnet lors
de ton séjour à Mafate. Il sera
noté...

Bonne rando !



Sommaire

1. -----*La charte du randonneur*
2. -----*Le vocabulaire et les outils du randonneur*
3. -----*Un peu de géographie et d'histoire*
4. -----*Journal de bord*
5. -----*Evaluation*

1. La charte du randonneur

Respect des consignes

- ✓ Avoir une tenue adaptée et complète (voir liste carnet de liaison)
- ✓ Adapter son rythme et boire régulièrement
- ✓ En cas de problème (chute, crampe, fatigue), informer les adultes
- ✓ Suivre les sentiers balisés

Respect de l'environnement

- ✓ Ne pas jeter ses déchets (les mettre dans sa poche ou dans son sac puis les mettre à la poubelle)
- ✓ Respecter la nature (ne pas cueillir, casser ou piétiner des plantes)

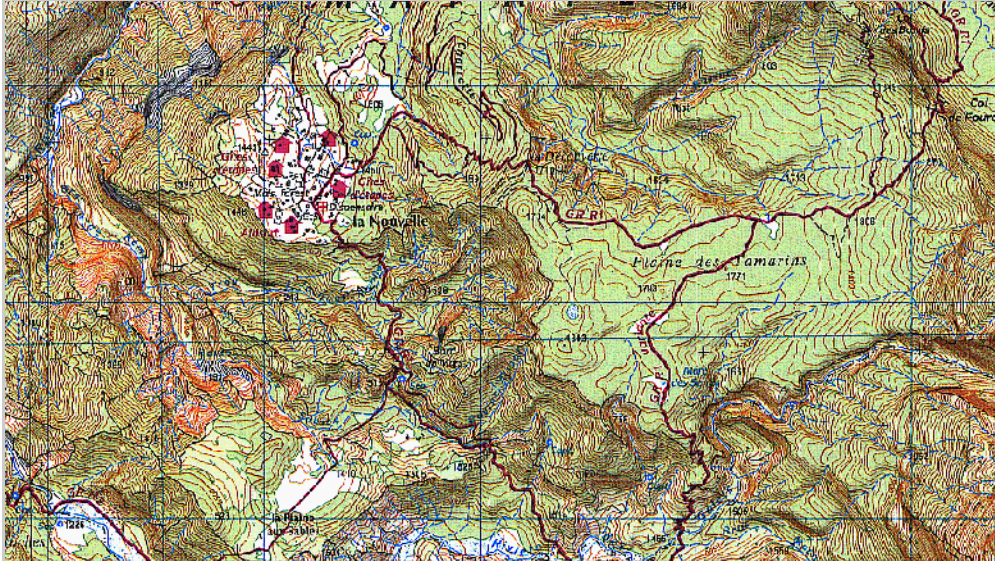
Respect des personnes

- ✓ Respecter les habitants et les autres randonneurs
- ✓ Être solidaire : ne pas marcher seul(e), attendre, apporter de l'aide et encourager ses camarades

Signature :

2. Le vocabulaire et les outils du randonneur

Extrait carte topographique I.G.N./4402 RT (1/25000)



1. Les sentiers de randonnée sont balisés par des marques de peinture pour ne pas se perdre. Retrouve les couleurs et la signification de ces symboles :

2. Où ces symboles sont-ils peints ? _____

3. Que veut dire I.G.N. ? _____

4. Quelle est l'échelle de la carte ? _____

5. Dans la réalité, combien représente 1 cm sur la carte ?

6. Remplis le tableau suivant puis trace le parcours sur ta carte. Entoure le départ et l'arrivée.

Randonnée 1 Col des Boeufs – La Nouvelle

Randonnée 2 La Nouvelle – La plaine aux sables – Col des Boeufs

	Rando 1	Rando 2
Distance mesurée sur la carte (en cm)		
Distance réelle calculée (en km)		
Altitude minimum relevée (en m)		
Altitude maximum relevée (en m)		
Dénivelé : différence entre les deux altitudes (en m)		

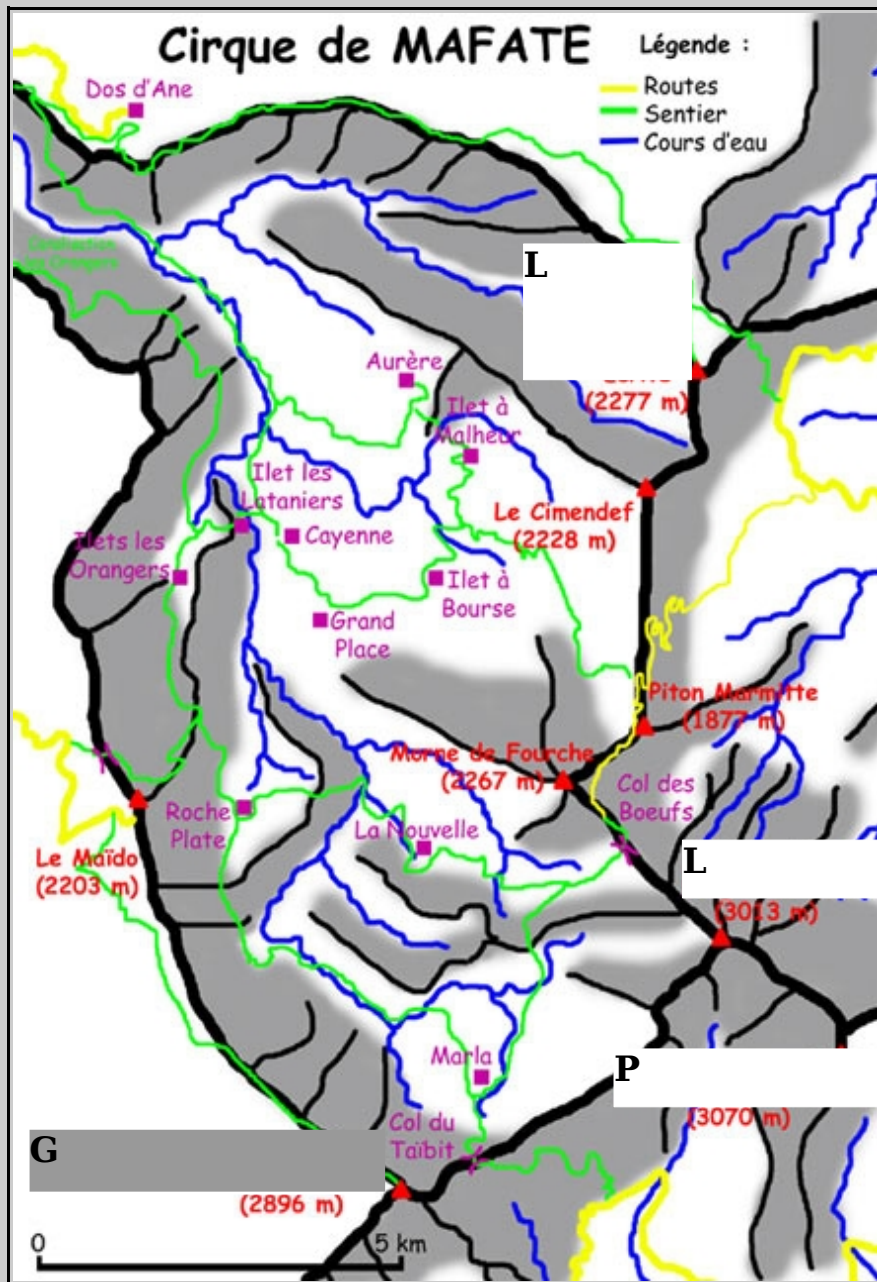
7. Sur ta carte, comment peut-on reconnaître le relief ?

8. Sur ta carte, à quoi correspondent les masses sombres ? Les masses claires ?

9. Y a-t-il des cours d'eau ? Comment les reconnaît-on ?

3. Un peu de géographie et d'histoire

1. Qu'est ce qu'un cirque ? _____



2. Complète le croquis en indiquant les noms des sommets du cirque.

3. D'où vient le nom de « Mafate » ? _____

3. Comment appelle-t-on les habitant(e)s de Mafate ?

4. Combien y a-t-il d'habitants à Mafate ?

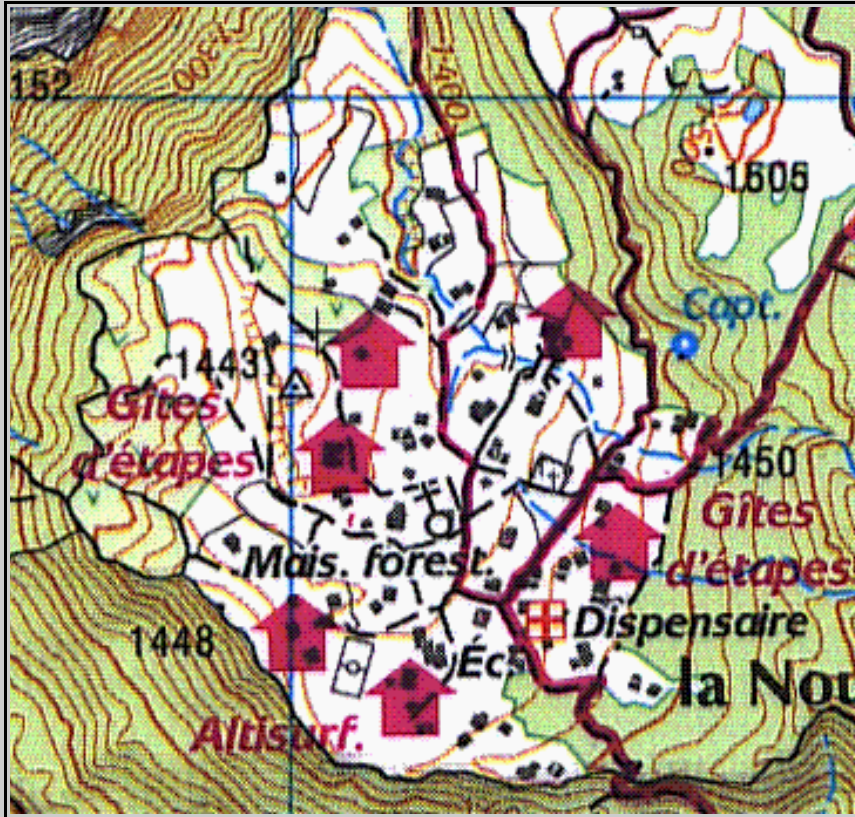
5. Qui sont les premiers habitants de Mafate ? Pourquoi se sont-ils réfugiés ici ?

6. Par qui ont-ils été rejoints à la fin du XIXème siècle ?

7. Y a-t-il plus d'habitants aujourd'hui que dans les années 50 ? Pourquoi ? _____

8. Où les enfants vont-ils à l'école ? Comment y vont-ils ? Où vont-ils au collège ? _____

9. Remplis le tableau suivant à partir de la carte.



10. Combien y a-t-il de maisons (à partir de cette carte) ?

11. Quels sont les moyens de transport à Mafate ?

12. Quelles sont les activités économiques ?

13. Combien y a-t-il de touristes par an ?

14. Comment fait le facteur pour distribuer le courrier ?

15. Dessine une maison de Mafate en décrivant les matériaux.

<i>Bâtiment/infrastructure</i>	<i>Symbole</i>
Eglise	
Gîte	
Ecole	
Dispensaire	
Stade de football	
Cimetière	

Raconte un moment que tu as trouvé drôle ou qui t'a marqué pendant cette sortie. Décris la scène et tes sentiments. Fais toujours attention à l'expression et l'orthographe