

BREVET/40 Sujet 2 blanc

Durée de l'épreuve : 2h. L'épreuve est notée sur 40 points. Maîtrise de la langue : 4 points
Temps donné à titre indicatif

Partie 1 Histoire /13

Questions 7 pts




- 1 En quelle année débute le calendrier musulman ? Comment s'appelle cet événement ? **2 pts**
- 2 A quelle date le peuple de Paris prend-il la Bastille ? **1 pt**
- 3 En quelle année a eu lieu la bataille de Verdun ? **1 pt**
- 4 Quel est le rôle et la place des Etats-Unis dans le monde aujourd'hui ? **1,5 pt**
- 5 Expliquez quel est le rôle du général De Gaulle pendant la Seconde Guerre mondiale de 1940 à 1944. **1,5 pt**

Travailler sur un document 6 pts



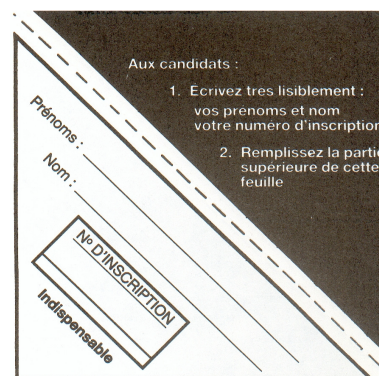
Document « Dehors les étrangers ! »



- 1 Présentez le document en précisant sa nature. **1 pt**
- 2 Décrivez le personnage du dessin et ce qu'il est en train de faire. **1 pt**
- 3 Expliquez, à l'aide du dessin, pourquoi beaucoup d'immigrés sont venus en France. **2 pts**
- 4 Quelle contradiction est mise en avant par le dessinateur entre le slogan et ce qu'est en train de faire ce travailleur ? **2 pts**

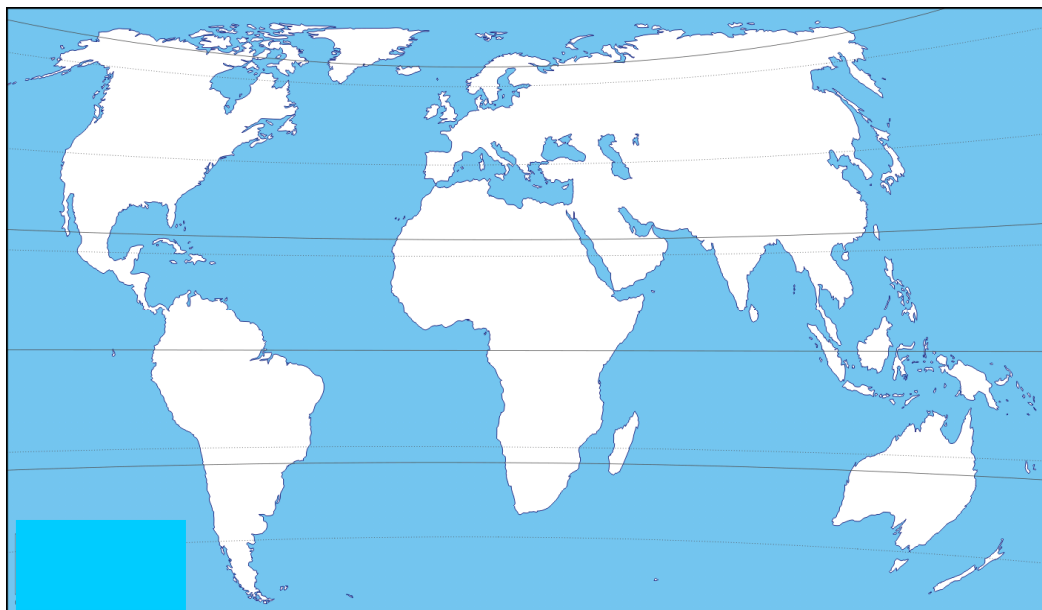
Partie 2 Géographie /13

Questions 7 pts



1 Quels sont les risques naturels auxquels est soumise la France métropolitaine et ultramarine ? **1 pt**

2 Dans un développement construit d'une dizaine de lignes, vous décrirez les principaux aspects de la puissance française dans le monde ? **3 pts**



3 Sur le planisphère ci-dessous, indiquez : **3 pts**

- les six continents ;
- les cinq océans ;
- l'équateur et les tropiques.

Travailler sur un document 6 pts

Document Les conflits d'usage dans les espaces ruraux



Entre 1999 et 2006, le parc de logements s'est accru dans les espaces périurbains et ruraux à un rythme annuel (1,1 %) plus rapide que celui des pôles urbains (+ 0,9 %). Les résidents recherchent un cadre de vie résidentiel dont l'originalité est d'être agencé autour de trois composantes clés [...] : le logement (la maison individuelle en propriété et son espace vert attenant), l'accès au centre d'emploi permis par la voiture ; la nature préservée (les paysages, le calme, le silence, le bien-être, l'air pur) mais pouvant être affectée par des nuisances. Les territoires ruraux connaissent de ce fait une concurrence croissante pour leurs usages et leur contrôle, qui peut aller jusqu'à déboucher sur des oppositions ouvertes, communément qualifiées de conflits d'usage ou de conflits environnementaux. Les oppositions sont très variables : ici une association de riverains s'oppose au projet de création d'un site de stockage de déchets ménagers, là un propriétaire foncier conteste le passage de randonneurs sur ses terres, ailleurs encore un maire, sous la pression de ses administrés, refuse de délivrer un permis de construire nécessaire à l'extension d'une porcherie. Pour de nombreux usagers résidentiels, opposés à tous projets et toutes activités susceptibles de détériorer leur cadre de vie, la campagne ne doit être qu'un havre de paix : « À quoi bon vivre ou s'installer à la campagne, si c'est pour voir détruire ce à quoi on tient ou ce qu'on y vient chercher ? »

D'après Ph. Jeanneaux et Ph. Perrier-Cornet, « Les conflits d'usage du cadre de vie dans les espaces ruraux et la décision publique locale », *Economie rurale*, n°306, 1^{er} juillet 2010, consulté le 11 avril 2012.

1 Montrez que les espaces ruraux et périurbains sont devenus plus attractifs que les espaces urbains.

0,5 pt

2 Quels espaces sont particulièrement attractifs ? Définissez-les. **1 pt**

3 D'où viennent les nouveaux habitants des campagnes ? Pourquoi ? **2 pts**

4 D'après vos connaissances, qu'est-ce qu'un conflit d'usage ? **0,5 pt**

5 Quels acteurs peuvent s'affronter sur un espace rural ? Expliquez deux exemples de conflits d'usage tirés du texte ou de vos connaissances personnelles.

2 pts

Partie 3 Education civique /10

Questions 4 pts



- 1 Citez plusieurs symboles de la République française. A quelle période de l'histoire de France la plupart de ces symboles font-ils référence ? **1,5 pt**
- 2 Quelles sont les différentes collectivités territoriales en France ? **1 pt**
- 3 Citez les trois derniers présidents de la République française dont celui qui est au pouvoir actuellement. **1,5 pt**

Travailler sur un document 6 pts



Document Le traité de Maastricht

Article 8

1. Il est institué une citoyenneté de l'Union.

Est citoyen de l'Union toute personne ayant la nationalité d'un État membre.

8 A

1. Tout citoyen de l'Union a le droit de circuler et de séjourner librement sur le territoire des États membres, sous réserve des limitations et conditions prévues par le présent traité et par les dispositions prises pour son application.

8 B

1. Tout citoyen de l'Union résidant dans un État membre dont il n'est pas ressortissant a le droit de vote et d'éligibilité aux élections municipales dans l'État membre où il réside, dans les mêmes conditions que les ressortissants de cet État.

8 C

Tout citoyen de l'Union bénéficie, sur le territoire d'un pays tiers où l'État membre dont il est ressortissant n'est pas représenté, de la protection de la part des autorités diplomatiques et consulaires de tout État membre, dans les mêmes conditions que les nationaux de cet État.

8 D

Tout citoyen de l'Union a le droit de pétition devant le Parlement européen conformément aux dispositions de l'article 138 D.

Extraits de l'article 8 du traité de Maastricht, 7 février 1992

- 1 Présentez le document. **1 pt**
- 2 Qui a la citoyenneté européenne ? **1 pt**
- 3 Pourquoi peut-on dire que le traité de Maastricht supprime les frontières pour les citoyens européens ? **1 pt**
- 4 A quelles élections un citoyen allemand vivant à Paris a-t-il le droit de voter en France ? Quel autre droit a-t-il lors de ces mêmes élections ? **2 pts**
- 5 Pensez-vous que l'article 8 D renforce la démocratie ? Pourquoi ? **1 pt**