

A la découverte de Langres.

Quelques conseils avant de commencer :

- *prenez votre temps,*
- *ouvrez les yeux,*
- *faites attention aux véhicules,*
- *utilisez un plan de la ville,*
- *munissez-vous d'un appareil photographique,*
- *vous pouvez demander des renseignements aux commerçants langrois : soyez courtois!*

Rendez-vous place Bel'air...

1) Dirigez vous vers la porte des Moulins. Elle se nomme ainsi car :

- elle a la forme d'un moulin à poivre,
- on y vendait des moulins à café,
- dans le temps, on y trouvait des moulins à vents.

Indices :

- Vous êtes place **Bel'air**...
- **A tire d'ailes** trouvez le **panneau explicatif** situé devant la porte en entrant...



Traversez la porte des Moulins. Prenez-en une photographie, elle devrait être d'or ! Observez bien les ferrures !

Rendez-vous rue Diderot (Sur le plan : H, I, J-5).

2) Arrêtez-vous au numéro 74 de cette rue :

Il s'agit d'un magasin. Mais qu'y vend-on ?

Indice :

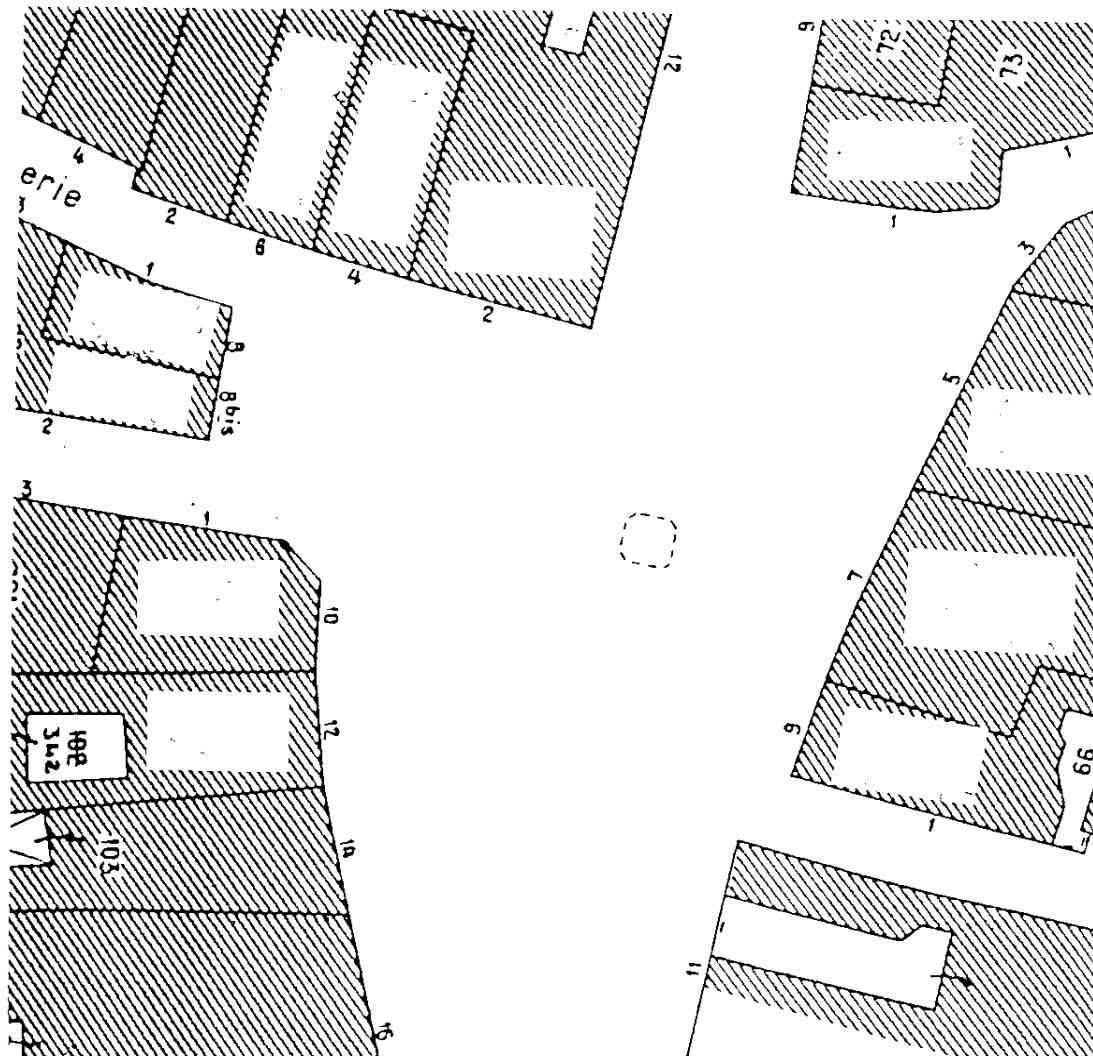
- Trouver la solution et vous permettra de repartir du **bon pied** !

N'oubliez pas la photographie !



Rendez-vous sur la place Diderot. Asseyez-vous au pied du grand homme.

3) Sur ce plan, inscrivez le nom des commerces dans les cases blanches. Aidez-vous des numéros inscrits sur le plan et sur les bâtiments.



N'oubliez pas la photographie !

4) Mais au fait qui était Diderot ?

Un indice vous attend : un panneau explicatif est placé non loin de la statue, sur un trottoir...

5) D'autres grands hommes ont participé à la même aventure que Diderot. Les connaissez-vous ? Donnez quelques noms

Rendez-vous rue du Général Leclerc (F, G-5).

6) Dessinez les armoiries de la ville de Langres. Elles sont cachées sur le bâtiment de la Poste.

Indice : Il faut parfois savoir lever le nez !



N'oubliez pas la photographie !

Rendez-vous place Jeanne Mance (F-5).

7) Observez la façade de la cathédrale et comptez le nombre de :

- colonnes :.....
- vitraux :.....
- portes :.....

N'oubliez pas la photographie (il faut prendre du recul dans le square pour avoir une vue la plus large possible) !

8) Placez-vous devant la statue du square...

- Quel personnage est représenté ?.....
- Qu'a fait ce personnage ?.....
- Sur le socle, il y a deux dates. Recopiez les ici :.....
- Qu'indiquent ces dates ? La durée de.....
- Que pouvez-vous en déduire ?.....

N'oubliez pas la photographie !



Entre la cathédrale et la Caisse d'Epargne, il y a une rue. Empruntez-la (Sur le plan F-4). Descendez les escaliers.

9) Au sol, il y a des dalles gravées.

- Comptez-les :.....
- Que sont ces dalles gravées ?.....

Faites-nous une belle photo !

10) Face à vous il y a la bibliothèque.

□ Quel est son nom ?.....

11) Qui était ce personnage qui a donné son nom à la bibliothèque municipale?

.....

Indice :

- Dans une bibliothèque, on est toujours bien accueilli alors poussez la porte !

12) Quel est le numéro attribué à la bibliothèque sur le plan du centre-ville ?

C'est le numéro

13) Au sol, il y a une grande spirale de métal et des petits symboles. Dessinez-en trois ici :



Encore une petite photographie, merci !

14) Mais au fait, où êtes-vous exactement ? (Quel était ce lieu « dans le temps » ?)

.....

Indice :

- Il existe un panneau explicatif en haut des marches. Il faut peut-être remonter...

Entrez donc calmement dans la cathédrale pour la visiter.

15) Quel est le nom de la cathédrale ?


.....

16) Qui fut le premier évêque de Langres ?

.....

Rendez-vous à la Maison Renaissance, un joyau d'architecture... Pour la trouver, dos à la cathédrale, entre le kiosque à musique (photo !) et le bassin, il y a une rue en face. Des pancartes sur les murs vous indiqueront le chemin à suivre !

17) Voici une photographie. Représente-t-elle une partie de la façade de la Maison Renaissance ?



Entourez la bonne réponse :

OUI **NON**

Si c'est oui, prenez la même photo...

18) Un personnage célèbre de l'Histoire de France y a séjourné. De qui s'agit-il ?

Indice : « Manque de **pot** », vous êtes certainement passés devant la plaque explicative sans la voir...

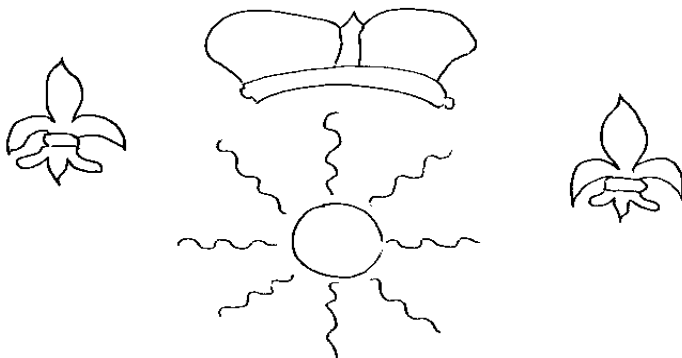
.....

Empruntez maintenant le passage couvert à droite de la Maison Renaissance. Allumez la lumière.

17) Comptez le nombre de plaques fixées au mur. Il y en a :.....

19) Cette plaque fait-elle partie de la collection ? OUI NON

Vous pouvez compléter le dessin si besoin.



Un petit tour à Langres.

Claude et Guillaume Leconte, école de Villegusien le lac.

2007

Rendez-vous sur le chemin de ronde. Prenez la rue de la Tournelle. Vous voici sur les remparts. Prenez à droite le long de la rue du Croc, vers la promenade de Montréal (Sur le plan D-7).

20) Pendant votre promenade sur les remparts :

- Relevez le nom des tours rencontrées et prenez des photographies.

Noms des tours :

.....
.....
.....
.....
.....
.....

- Qu'est-ce qu'une échauguette ? (une petite photo SVP !)

.....
.....
.....

- Vous apercevrez un lac. Quel est son nom ? (et une photo !)

.....
.....
.....
.....

21) Mais voici la crémaillère. Prenez-en une photographie puis :

- Calculez la durée de son fonctionnement :.....
- Indiquez à quoi elle servait :.....
- Quelle énergie utilisait ce modèle ?.....
- Et le premier modèle, avec quoi fonctionnait-il ?.....
- Devant cette machine, on voit un fragment de rail central. Quel était son rôle ?.....



22) Il faut rejoindre maintenant la porte des Moulins. Passez par les remparts en complétant votre liste des tours rencontrées.

Noms des tours :

.....
.....
.....
.....
.....
.....
.....
.....
.....
.....
.....
.....
.....
.....
.....

Le jeu de piste se termine ici. Rendez-vous place Bel'air !!!