
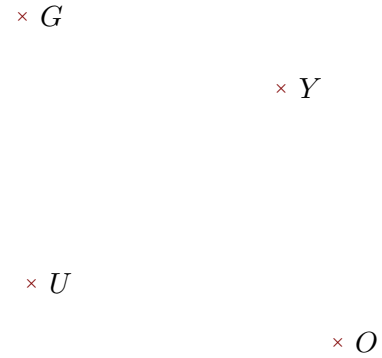


Exercice 1

Réaliser les figures suivantes :




- 1. Tracer la droite parallèle à la droite (TX) passant par W
- 2. Tracer la droite perpendiculaire à la droite (HT) passant par W



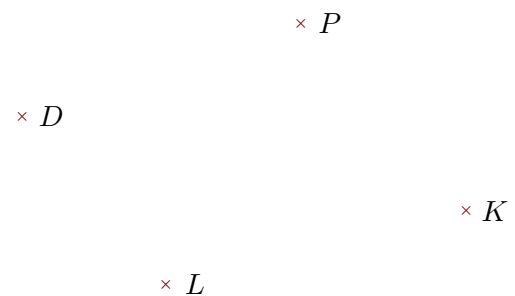
- 1. Tracer la droite perpendiculaire à la droite (UO) passant par G
- 2. Tracer la droite parallèle à la droite (GY) passant par U

Exercice 2

Réaliser les figures suivantes :



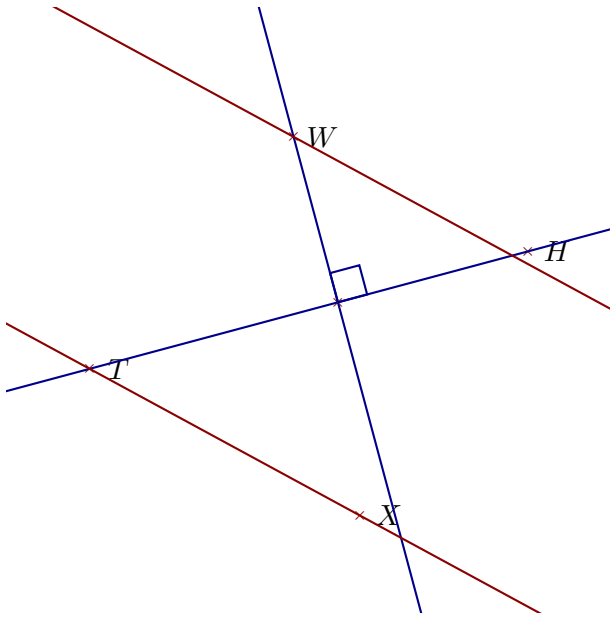
- 1. Tracer la droite perpendiculaire à la droite (KU) passant par A
- 2. Tracer la droite parallèle à la droite (UA) passant par K



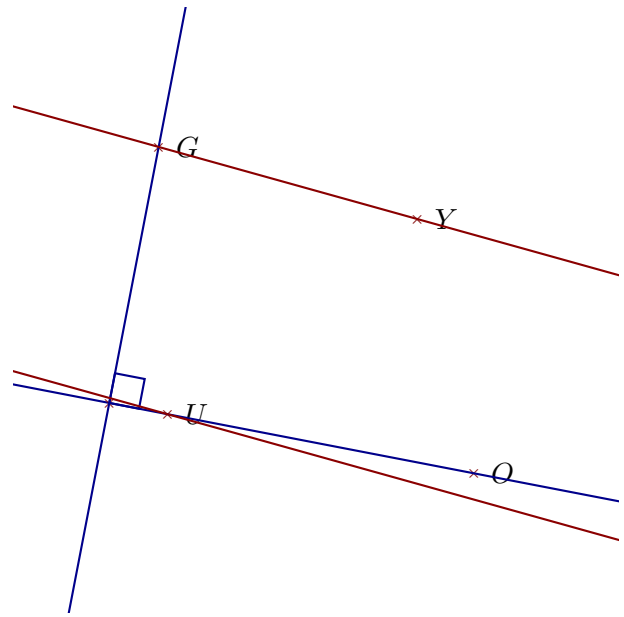
- 1. Tracer la droite perpendiculaire à la droite (DL) passant par P
- 2. Tracer la droite parallèle à la droite (DK) passant par P

Corrigé de l'exercice 1

Réaliser les figures suivantes :



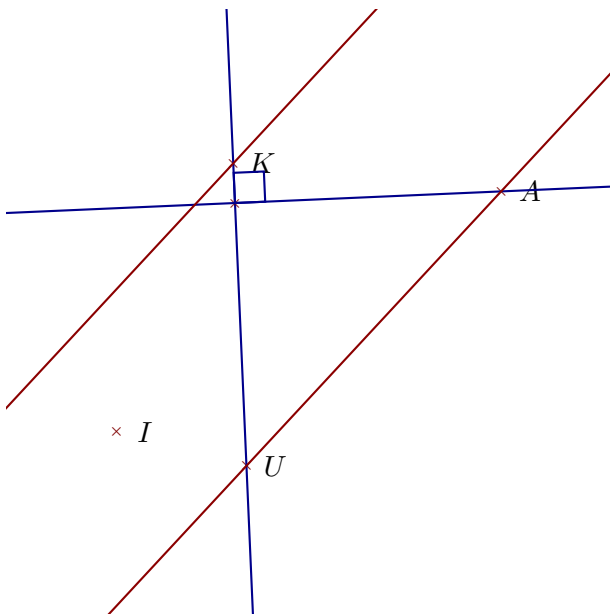
- 1. Tracer la droite parallèle à la droite (TX) passant par W
- 2. Tracer la droite perpendiculaire à la droite (HT) passant par W



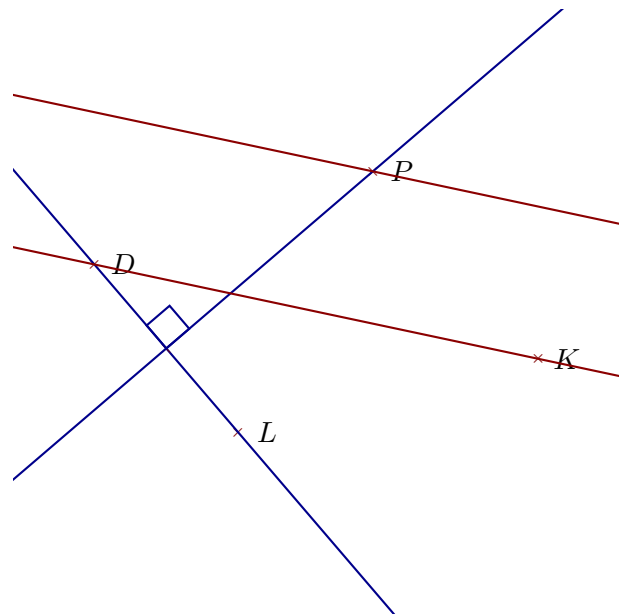
- 1. Tracer la droite perpendiculaire à la droite (UO) passant par G
- 2. Tracer la droite parallèle à la droite (GY) passant par U

Corrigé de l'exercice 2

Réaliser les figures suivantes :



- 1. Tracer la droite perpendiculaire à la droite (KU) passant par A
- 2. Tracer la droite parallèle à la droite (UA) passant par K



- 1. Tracer la droite perpendiculaire à la droite (DL) passant par P
- 2. Tracer la droite parallèle à la droite (DK) passant par P