



A




B



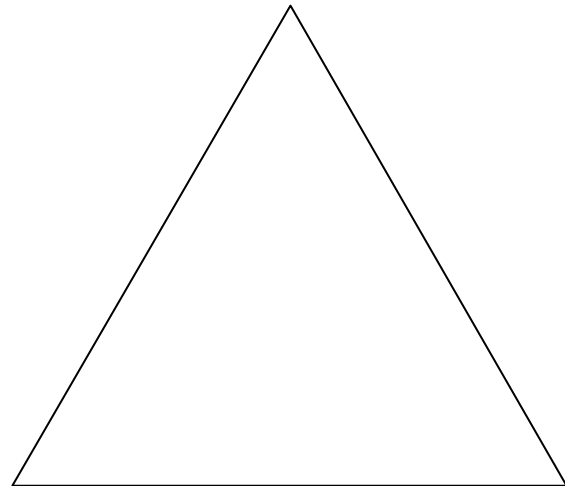
C



D



E



1) Vérifier que ces cinq surfaces ont le même périmètre.

2) Comparer deux à deux les surfaces A , B, C, D et E selon leur aire

Aire de A	Aire de B
Aire de A	Aire de E
Aire de B	Aire de E
Aire de D	Aire de E

Aire de A	Aire de C
Aire de B	Aire de C
Aire de C	Aire de D

Aire de A	Aire de D
Aire de B	Aire de D
Aire de C	Aire de E

3) Classer, d'après leur aire, ces surfaces de la plus petite à la plus grande
